


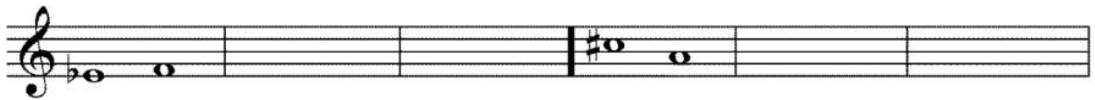
MODELO DE EXAMEN PRUEBA ACCESO ENSEÑANZAS PROFESIONALES
1er CURSO.

1.INTERVALOS

A) Clasifica los siguientes intervalos en número y especie:



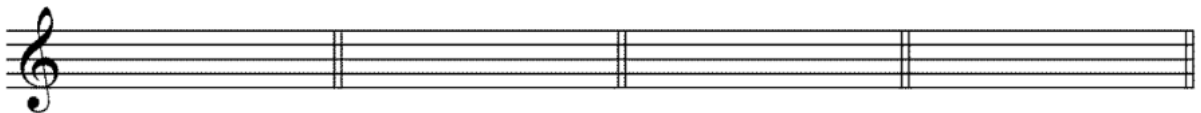
B) Realiza la inversión y ampliación de los dos sonidos y clasifica:



2.TONALIDADES

A) Escribe la armadura de las siguientes tonalidades:

Re Mayor Mi bemol menor La bemol Mayor Sol # menor



3.ESCALAS

Fa menor melódica

Re menor dórica



Mi bemol menor natural

Do # menor armónica



4.COMPASES

Unidad de compás, de tiempo y de parte o subdivisión de los compases: 9/8, 2/8, 12/8 y 3/8.

5.FRAGMENTO MUSICAL



- Escribe la tonalidad del fragmento y su tonalidad relativa:
- Rodea con un círculo las síncopas que encuentres.
- Señala los semitonos diatónicos que encuentres.
- Escribe los grados tonales y modales de la tonalidad del fragmento:

G. Tonales

G. Modales

